



# MINISTÉRIO PÚBLICO DO ESTADO DE SÃO PAULO

## CONCURSO PÚBLICO

### 1. OFICIAL DE PROMOTORIA

Língua Portuguesa, Matemática, Noções de Direito e Atualidades

#### INSTRUÇÕES

- ♦ VOCÊ RECEBEU SUA FOLHA DE RESPOSTAS E ESTE CADERNO CONTENDO 80 QUESTÕES OBJETIVAS.
- ♦ CONFIRA SEU NOME E NÚMERO DE INSCRIÇÃO NA CAPA DESTE CADERNO.
- ♦ LEIA CUIDADOSAMENTE AS QUESTÕES E ESCOLHA A RESPOSTA QUE VOCÊ CONSIDERA CORRETA.
- ♦ RESPONDA A TODAS AS QUESTÕES.
- ♦ ASSINALE NA FOLHA DE RESPOSTAS, COM CANETA DE TINTA AZUL OU PRETA, A ALTERNATIVA QUE JULGAR CERTA.
- ♦ A DURAÇÃO DA PROVA É DE 4 HORAS.
- ♦ A SAÍDA DO CANDIDATO DO PRÉDIO SERÁ PERMITIDA APÓS TRANSCORRIDAS 2 HORAS DO INÍCIO DA PROVA OBJETIVA.
- ♦ AO TERMINAR A PROVA, VOCÊ ENTREGARÁ AO FISCAL A FOLHA DE RESPOSTAS E LEVARÁ ESTE CADERNO.

AGUARDE A ORDEM DO FISCAL PARA ABRIR ESTE CADERNO DE QUESTÕES.

## LÍNGUA PORTUGUESA

Leia o texto para responder às questões de números **01** a **18**.

*Escreva com elegância*

Quando escrevemos, devemos perseguir, além de um texto sem erros de grafia e outros senões gramaticais, aquilo que se chama concisão. O que é ser conciso? É saber usar as palavras na medida certa, saber usá-las como expressão do que nos vem à mente.

Mas não pense que é fácil atingir a concisão, pois temos a mania de inserir no texto elementos que, se retirados numa leitura mais atenta, não vão fazer a menor falta.

Quando escrevemos, precisamos pensar no leitor, precisamos despertar nele o interesse de ler nosso artigo, devemos fisgá-lo já na primeira linha. Do contrário, adeus leitor, adeus artigo, adeus coluna, principalmente sobre língua portuguesa!

O trecho que se segue foi redigido sem observar os princípios da concisão. Note que ele não apresenta nenhum erro gramatical, mas pode ser melhorado do ponto de vista de sua redação. Veja-mos:

“Quando o povo compareceu às urnas e o candidato Edmundo alcançou a vitória eleitoral, o agora chefe do Executivo municipal, ao veicular sua primeira modificação em nível administrativo, travou uma discussão com os edis ao viabilizar um mapeamento com relação aos assentamentos urbanos informais que têm indisponibilidade temporária dos serviços de saneamento, no sentido de sinalizar um posicionamento na implementação de uma proposição de alcance humano que otimizasse a qualidade de vida das pessoas.”

Veja o mesmo trecho, escrito dentro de algumas técnicas que levam à concisão:

“Quando o povo votou e o candidato Edmundo ganhou as eleições, o agora prefeito, ao transmitir sua primeira mudança administrativa, discutiu com os vereadores ao realizar uma lista das favelas que têm falta de água, para apontar uma tomada de posição na execução de um projeto humano que melhorasse a qualidade de vida das pessoas.”

O leitor há de concordar que as alterações tornaram o texto mais *enxuto*, mais leve, mais agradável de ler. Por isso, ao escrever, lembre-se sempre de Carlos Drummond de Andrade: “Escrever é cortar palavras.”

(Sérgio Simka, Revista *Ensino Superior*, edição 93/2006. Adaptado)

**01.** Segundo o texto, a concisão deve ser entendida como

- (A) a inclusão de elementos irrelevantes no texto para a expressão das idéias.
- (B) o emprego das palavras adequadas à expressão das idéias, isenta de excessos.
- (C) a escrita isenta de erros de grafia e de desvios gramaticais.
- (D) a produção de textos objetivos e pouco atrativos ao leitor.
- (E) a escrita com elegância, empregando-se termos difíceis.

**02.** Considerando (I) o respeito às regras gramaticais, (II) a eliminação dos termos desnecessários e (III) o atendimento à ortografia oficial da língua, o exposto pelo autor permite concluir que um bom texto envolve

- (A) I, apenas.
- (B) II, apenas.
- (C) I e II, apenas.
- (D) II e III, apenas.
- (E) I, II e III.

**03.** A eficácia de um bom texto pode ser inferida na medida em que ele

- (A) prescinde dos aspectos da concisão.
- (B) desconsidera a língua pátria.
- (C) garante a adesão do leitor.
- (D) ignora a grafia das palavras.
- (E) prioriza os detalhes gramaticais.

**04.** De acordo com o autor, uma das dificuldades de atingir a concisão reside no fato de as pessoas, ao escrever, serem

- (A) redundantes.
- (B) lacônicas.
- (C) atentas.
- (D) perfeccionistas.
- (E) sintéticas.

**05.** A versão do trecho, ajustada aos princípios da concisão, revela ter havido na reescrita uma preocupação em

- (A) corrigir erros de grafia e de gramática.
- (B) substituir frases ambíguas e termos corriqueiros.
- (C) reorganizar a ordem dos termos das expressões.
- (D) evitar uma linguagem empolada e cheia de clichês.
- (E) expandir as frases para torná-las mais claras.

**06.** Em relação ao princípio de concisão apresentado pelo autor, a frase de Carlos Drummond de Andrade

- (A) ratifica-o.
- (B) nega-o.
- (C) contraria-o.
- (D) relativiza-o.
- (E) corrige-o.

**07.** No contexto em que é empregado, o termo *enxuto*, em destaque no último parágrafo do texto, significa menos

- (A) objetivo.
- (B) molhado.
- (C) caótico.
- (D) confuso.
- (E) prolixo.

08. Considerando o emprego do pronome em destaque, assinale a alternativa que contém a frase equivalente a – ... *precisamos despertar NELE o interesse de ler nosso artigo...*

- (A) precisamos despertá-lo o interesse de ler nosso artigo.
- (B) precisamos despertar o seu interesse de ler nosso artigo.
- (C) precisamos despertar-te o interesse de ler nosso artigo.
- (D) precisamos despertar algum interesse de ler nosso artigo.
- (E) precisamos despertar-lhe teu interesse de ler nosso artigo.

09. *Quando o povo votou e o candidato Edmundo ganhou as eleições, o agora prefeito...*

O termo *agora* pode ser substituído por \_\_\_\_\_. Caso se referisse a um prefeito que já não estivesse no cargo, deveria ser substituído por \_\_\_\_\_.

Os espaços da frase devem ser preenchidos, respectivamente, com

- (A) contemporâneo ... ex
- (B) eminente ... naquela época
- (C) hoje ... moderno
- (D) atual ... então
- (E) recém ... antes

Segundo o autor, quem escreve deve *perseguir um texto sem erros de grafia e outros senões gramaticais*. Nas questões de números 10 e 11, assinale a alternativa em que esse princípio é seguido.

10. (A) Na sessão em que foram comunicadas as mudanças administrativas, houve desavenssas entre o prefeito e os vereadores.
- (B) Na seção em que foram comunicadas as mudanças administrativas, ouve desavenssas entre o prefeito e os vereadores.
- (C) Na sessão em que foram comunicadas as mudanças administrativas, houve desavenças entre o prefeito e os vereadores.
- (D) Na cessão em que foram comunicadas as mudanças administrativas, houve desavenças entre o prefeito e os vereadores.
- (E) Na sessão em que foram comunicadas as mudanças administrativas, ouve desavenssas entre o prefeito e os vereadores.
11. (A) Se o prefeito quiser agilizar as obras que foram paralisadas no mandato anterior, deverá empregar melhor as verbas que vêm da União.
- (B) Se o prefeito quiser agilizar as obras que foram paralisadas no mandato anterior, deverá empregar melhor as verbas que vêm da União.
- (C) Se o prefeito quiser agilisar as obras que foram paralisadas no mandato anterior, deverá empregar melhor as verbas que vêm da União.
- (D) Se o prefeito quiser agilizar as obras que foram paralisadas no mandato anterior, deverá empregar melhor as verbas que vem da União.
- (E) Se o prefeito quiser agilisar as obras que foram paralisadas no mandato anterior, deverá empregar melhor as verbas que vêm da União.

12. As idéias contidas em – *Por isso, ao escrever, lembre-se sempre de Carlos Drummond de Andrade...* – estão expressas corretamente em:

- (A) Uma vez que, à medida que escreva, não esqueça de Carlos Drummond de Andrade.
- (B) Então, quando escrever, nunca se esqueça de Carlos Drummond de Andrade.
- (C) No entanto, enquanto escreve, jamais se esqueça de Carlos Drummond de Andrade.
- (D) Portanto, desde que escreva, de forma alguma esqueça de Carlos Drummond de Andrade.
- (E) Porque, logo que escreva, em nenhuma hipótese esqueça-se de Carlos Drummond de Andrade.

13. Assinale a alternativa correta quanto à crase.

- (A) O prefeito mostrou a lista das favelas para que os vereadores começassem à pensar em soluções.
- (B) O prefeito apresentou à todos os vereadores uma lista das favelas da cidade.
- (C) A lista das favelas foi passada de vereador à vereador para que conhecessem o problema.
- (D) O vereador referiu-se à uma lista das favelas de forma irônica.
- (E) Em relação à lista das favelas, os vereadores mostraram-se pouco convencidos quanto aos seus dados.

14. Assinale a alternativa correta quanto à colocação pronominal.

- (A) Informaria-se o prefeito de que, na sessão seguinte, discutiria-se o destino das verbas enviadas pelo governo federal.
- (B) Se informou o prefeito de que os vereadores discutiriam o destino das verbas enviadas pelo governo federal.
- (C) O Presidente da Câmara informou o prefeito de que se discutiria, na sessão seguinte, o destino das verbas enviadas pelo governo federal.
- (D) O prefeito não incomodou-se com o fato de que os vereadores discutiriam o destino das verbas do governo federal.
- (E) Tinha informado-se o prefeito de que os vereadores discutiriam o destino das verbas do governo federal.

15. Considerando o sentido, as regras de concordância e as de regência, assinale a alternativa correta.

- (A) Redigiram o texto seguinte sem que fosse feitas observações aos princípios da concisão.
- (B) Redigiram-se o texto que se segue sem que se observasse os princípios da concisão.
- (C) Redigiu-se ao texto que se segue sem observação dos princípios da concisão.
- (D) Redigiu-se o texto que se segue sem observação aos princípios da concisão.
- (E) Redigiram-se ao texto seguinte sem que se fizesse observações dos princípios da concisão.

16. A frase – *O LEITOR há de concordar que as alterações...* – Na segunda pessoa do singular, assume a seguinte forma:

- (A) Leitor, tu hás de concordar que as alterações ...
- (B) Leitor, tu há de concordares que as alterações ...
- (C) Leitor, você hás de concordar que as alterações ...
- (D) Leitor, vós heis de concordar que as alterações ...
- (E) Leitor, tu hás de concordares que as alterações ...

17. *Mas não pense que é fácil atingir a concisão, pois temos a mania de inserir no texto elementos...*

No contexto, as conjunções *Mas* e *pois* estabelecem entre as idéias expostas, respectivamente, relações de sentido de

- (A) conseqüência e conclusão.
- (B) concessão e conclusão.
- (C) causa e adversidade.
- (D) explicação e causa.
- (E) adversidade e explicação.

18. Assinale a alternativa correta quanto à concordância nominal.

- (A) Os textos podem ser melhorado, tornando-se mais concisos.
- (B) Seguiu inclusos o relatório e a ata da reunião do prefeito.
- (C) Era conciso o relatório, assim como todos os documentos do prefeito.
- (D) A vereadora disse que ela mesmo ia falar com o prefeito sobre as mudanças.
- (E) As cópias dos documentos foram anexo à carta encaminhada aos vereadores.

19. Assinale a frase correta quanto à pontuação.

- (A) O texto, deve primar pela concisão, clareza e objetividade, para veicular as idéias.
- (B) A concisão, no texto, deve estar acompanhada, também, da clareza e da objetividade.
- (C) O bom texto deve ser, claro, conciso, objetivo e coerente.
- (D) Concisão, clareza, e objetividade são características, básicas de um texto.
- (E) Sem clareza, e objetividade, fica difícil, conseguir um bom texto.

Para responder às questões de números 20 a 23, leia os quadrinhos.



(*O Pato*, 2.ª ed. Rio de Janeiro, Codecri, 1978)

20. Sobre as formas (I) largato e (II) lagarto, é correto afirmar que

- (A) somente I está em conformidade com a ortografia oficial da língua portuguesa.
- (B) ambas são corretas, sendo II uma variação de I.
- (C) ambas estão incorretas, pois se escreve *largarto*.
- (D) somente II está em conformidade com a ortografia oficial da língua portuguesa.
- (E) I segue a ortografia oficial, bem como a forma *largatixa*.

21. Desmembrando-se as orações do último quadrinho, obtém-se:

- I. Passou tão depressa
- II. que não deu nem pra distinguir.

Sobre a relação de sentido entre essas orações, é correto afirmar que

- (A) I é causa e II é conseqüência.
- (B) II é uma oposição a I.
- (C) I é efeito e II é causa.
- (D) II é uma comparação a I.
- (E) I é uma conclusão de II.

22. Considerando-se a crase e a acentuação, assinale a alternativa correta.

- (A) O bicho passou a uma velocidade tão rápida que nem se pode distinguir, àquela distância, o que realmente era.
- (B) O bicho passou à uma velocidade tão rápida que nem se pôde distinguir, aquela distancia, o que realmente era.
- (C) O bicho passou a uma velocidade tão rápida que nem se pôde distinguir, àquela distância, o que realmente era.
- (D) O bicho passou à uma velocidade tão rápida que nem se pôde distinguir, àquela distancia, o que realmente era.
- (E) O bicho passou à uma velocidade tão rápida que nem se pode distinguir, aquela distância, o que realmente era.

23. Assinale a alternativa em que a correlação entre os verbos está correta.
- (A) Se o bicho passava depressa, não foi possível distingui-lo.
  - (B) O bicho passava tão depressa que não era possível distingui-lo.
  - (C) Quando o bicho passar depressa, não seria possível distingui-lo.
  - (D) Embora o bicho passa depressa, não era possível distingui-lo.
  - (E) Enquanto o bicho passa tão depressa, não era possível distingui-lo.

Para responder às questões de números 24 a 39, leia o texto.

*As regras e as exceções*

Era 28 de outubro de 2002, segunda-feira. Euclides de Araújo Valério passeava entre as gôndolas de um hipermercado na zona leste de São Paulo. Em certo momento, desejou um rolinho de espuma para pintura: escondeu-o sob a camiseta e tentou sair do mercado. Foi descoberto por funcionários, indiciado e julgado. Somente as 150 folhas que compunham o volume do processo penal – caso fossem apenas páginas em branco, compradas em uma papelaria – custariam em média R\$ 3,50. O rolinho de espuma que Valério escondeu sob a blusa custava, naquele dia, R\$ 1,67. Três anos e cinco meses depois, Euclides de Araújo Valério foi inocentado. Um juiz mudou-lhe o destino.

Quinta-feira, três dias depois, em 31 de outubro, Suzane von Richthofen, seu namorado Daniel Cravinhos e o irmão dele, Christian, assassinam Manfred e Marisa von Richthofen. Suzane alegou ter participado do crime por amor ao namorado, relacionamento desaprovado pela família de classe média. O crime ganhou ares de folhetim. Capítulo a capítulo, da exposição dos detalhes do homicídio aos entraves e recursos do julgamento, o Brasil pára diante da narrativa como quem assiste a uma novela, perplexo. Ré confessa, Suzane esperou, ora em prisão preventiva, ora em liberdade, o júri popular, que acontece nesse mês, depois do adiamento em junho pela ausência de uma testemunha e pela recusa de seu advogado de defesa em permanecer no tribunal. A novela foi esticada. Três anos e nove meses depois, o Brasil espera o capítulo final.

Dois crimes, dois castigos. Um representa a exceção. Outro, a regra.

A perplexidade diante da justiça brasileira resiste dentro e fora de seus quadros. Às vezes, o Judiciário é acusado de ser a causa de um cenário desolador: processos estacionados, decisões absurdas, privilégios e condescendência a uns, rigidez e disciplina a outros. Outras vezes, o Judiciário é sintoma de um mal maior: não seria possível ser plenamente justo em uma sociedade cronicamente injusta.

Se, por um lado, os dispositivos jurídicos brasileiros avançaram significativamente nas últimas décadas – com a atualização de importantes códigos, como o Civil e o de Processo Penal, e com a criação de instrumentos bastante avançados, como o Código de Defesa do Consumidor, o Estatuto da Criança e do Adolescente e a Lei de Execuções Penais –, por outro, o desnível entre as classes sociais no país atinge índices alarmantes. Ricos e pobres, debaixo da mesma lei, experimentam de maneira diferenciada o rigor da Justiça. Para cada Suzane na cadeia, há milhares de Valérios.

(Cult, julho de 2006. Adaptado)

24. *Um representa a exceção. Outro, a regra.*

A exceção e a regra dizem respeito

- (A) a casos de atribuição de culpa indevida, dos quais Suzane e Valério são vítimas.
- (B) a Suzane e a Valério, respectivamente, pelo tratamento recebido pela Justiça.
- (C) aos vaivéns da Justiça nacional que, com frequência, não discrimina seus réus.
- (D) a Valério, que foi acusado e, posteriormente, inocentado por um juiz.
- (E) a Valério e a Suzane, respectivamente, pela discriminação da Justiça, de que foram vítimas.

25. Assinale a alternativa que contém a idéia expressa pelo título do texto.

- (A) Três anos e cinco meses depois, Euclides de Araújo Valério foi inocentado.
- (B) ... os dispositivos jurídicos brasileiros avançaram significativamente nas últimas décadas...
- (C) A novela foi esticada.
- (D) ... privilégios e condescendência a uns, rigidez e disciplina a outros.
- (E) ... o Brasil pára diante da narrativa...

26. Em – ... não seria possível ser plenamente justo em uma sociedade cronicamente injusta.– o termo *cronicamente* sugere que, no Brasil, a injustiça

- (A) perdura há muito tempo.
- (B) dissipou-se modernamente.
- (C) é de um passado recente.
- (D) foi eliminada faz tempo.
- (E) é oriunda da contemporaneidade.

27. O autor compara o julgamento de Suzane a uma novela. Sobre isso, afirma-se que

- I. o autor emprega a linguagem figurada, com termos próprios à teledramaturgia: capítulo, narrativa, capítulo final;
- II. a idéia da comparação com a novela é válida pelo interesse que esta desperta no público, ávido pela resolução dos conflitos;
- III. os acertos e desacertos do caso real assemelham-se às tramas construídas na narrativa televisiva;
- IV. o público perdeu o interesse pelo caso de Suzane, assim como por uma novela em que ocorreu uma esticada em seus capítulos.

Estão corretas apenas as afirmativas

- (A) I e III.
- (B) II e III.
- (C) II e IV.
- (D) I, II e III.
- (E) I, III e IV.

28. A frase – ... o Brasil espera o capítulo final. – significa que
- (A) o desenlace do julgamento não chama a atenção do povo.
  - (B) os brasileiros preferem a novela ao caso da vida real.
  - (C) a justiça, na ficção ou na realidade, não é preocupação dos brasileiros.
  - (D) o julgamento, diferente da novela, tem um desenlace equilibrado.
  - (E) os brasileiros têm expectativa, como na novela, pela justiça.

Para responder às questões de números 29 e 30, considere a frase – Para cada Suzane na cadeia, há milhares de Valérios.

29. É correto afirmar que, na frase, a linguagem empregada é
- (A) figurada, para amenizar a idéia do desequilíbrio social.
  - (B) objetiva, para desmistificar o tabu de que há diferenças entre ricos e pobres.
  - (C) figurada, para enfatizar, pelo exagero, as diferenças entre ricos e pobres.
  - (D) objetiva, para mostrar, de forma precisa, as desigualdades sociais.
  - (E) figurada, para ironizar a retração dos índices de desigualdade social.
30. Assinale a frase correta quanto à concordância verbal.
- (A) Para cada Suzane na cadeia, deve existir milhares de Valérios.
  - (B) Para cada Suzane na cadeia, encontra-se milhares de Valérios.
  - (C) Para cada Suzane na cadeia, devem haver milhares de Valérios.
  - (D) Para cada Suzane na cadeia, existem milhares de Valérios.
  - (E) Para cada Suzane na cadeia, assistem-se a milhares de Valérios.
31. Assinale a alternativa correta quanto à regência.
- (A) A família de classe média em que Suzane pertencia desaprovava o seu namoro.
  - (B) As acusações que o Judiciário é alvo apontam para um cenário desolador.
  - (C) O desnível entre as classes sociais, em cuja base há índices alarmantes, representa aspectos negativos da justiça.
  - (D) Depois de três anos e cinco meses, o destino de Valério foi mudado por um juiz ao qual o inocentou.
  - (E) Não se pode ser plenamente justo numa sociedade a qual prevalece ainda a injustiça.

32. Valério escondeu um rolinho de espuma sob a camiseta. Os funcionários do hipermercado \_\_\_\_\_. O rapaz foi retirado do local \_\_\_\_\_ o incidente ocorreu e levado \_\_\_\_\_ delegacia.
- Os espaços devem ser preenchidos, respectivamente, com
- (A) detiveram-no ... onde ... à
  - (B) deteram-lhe ... aonde ... na
  - (C) detiveram ele ... onde ... há
  - (D) deteram-no ... aonde ... para a
  - (E) detiveram-o ... em que ... a

Para responder às questões de números 33 e 34, leia a frase: *Ricos e pobres, debaixo da mesma lei, experimentam de maneira diferenciada o rigor da Justiça.*

33. Mantendo-se o sentido do trecho, a expressão *debaixo da* pode ser substituída por
- (A) com a.
  - (B) na.
  - (C) ante a.
  - (D) sobre a.
  - (E) sob a.
34. Pelas informações, fica claro que as pessoas que \_\_\_\_\_ de classes sociais pobres parecem não ter as mesmas regalias que as oriundas de classes ricas. Se se \_\_\_\_\_ um estudo e \_\_\_\_\_ os dados em confronto, ver-se-á que isso é verdadeiro.
- Os espaços devem ser preenchidos, respectivamente, com
- (A) provêem ... fizer ... porem
  - (B) provem ... fazer ... pôr
  - (C) provêm ... fizer ... puserem
  - (D) provém ... fazer ... puser
  - (E) provêem ... fizer ... puser
35. Assinale a frase corretamente pontuada.
- (A) O Judiciário outras vezes, é acusado de ser a causa de um cenário desolador.
  - (B) Suzane, ré confessa, esperou, ora em prisão preventiva, ora em liberdade, o júri popular.
  - (C) Debaixo da mesma lei, ricos e pobres experimentam, o rigor da justiça, de maneira diferenciada.
  - (D) O Código de Processo Penal, tornou-se um instrumento importante para a população brasileira.
  - (E) A idéia de que, os Códigos de lei brasileiros, atinge a toda a população, é meio ilusório.

Leia a charge para responder à questão de número 36.



(www.chargeonline.com.br)

36. Os sentidos sugeridos pela charge, que se ajustam ao texto anteriormente analisado, mostram que

- (A) enxergar os erros é um caminho para a justiça.
- (B) a justiça enxerga todos os erros com imparcialidade.
- (C) a igualdade dos cidadãos é uma busca da justiça.
- (D) a justiça não trata a todos com equidade.
- (E) a justiça não é cega, mas é igual para todos.

Para responder às questões de números 37 a 40, leia a charge.

O PENSADOR TÁ PENSANDO ...

Se jornalista que mata jornalista tá solto,  
se ator que mata atriz tá solto, se maluco  
que mata jovens apaixonados tá solto,  
\_\_\_\_\_ filha que mata os pais vai  
ficar presa?



(www.chargeonline.com.br. Adaptado)

37. A lacuna presente na charge deve ser preenchida com

- (A) por quê
- (B) por quê ou porquê
- (C) porque
- (D) porquê ou porque
- (E) por que

38. É correto afirmar que a charge tem relação com o texto da *Cult*, pois

- (A) revela que sempre se faz justiça, remetendo à seguinte informação: *Três anos e cinco meses depois, Euclides de Araújo Valério foi inocentado.*
- (B) trata o mesmo aspecto do tema nele abordado, remetendo à seguinte informação: *Dois crimes, dois castigos.*
- (C) mostra que a justiça é lenta, remetendo à seguinte informação: *processos estacionados.*
- (D) explora as mudanças positivas na lei, remetendo à seguinte informação: *os dispositivos jurídicos brasileiros avançaram significativamente nas últimas décadas.*
- (E) afirmam-se os gastos exagerados nos processos, remetendo à seguinte informação: *Somente as 150 folhas (...) custariam em média R\$ 3,50.*

39. Pelo exposto na charge, sugere-se que a lei que se aplica à filha deve

- (A) ser a mesma aplicada ao jornalista, ao ator e ao maluco.
- (B) inocentá-la, pois, de fato, não cometeu um crime.
- (C) condená-la, apesar de homicídios não deverem ser punidos.
- (D) refletir a parcialidade das leis nos julgamentos.
- (E) mostrar que a justiça coíbe os crimes.

40. Para chegar à sua consideração final, o pensador elabora seus pensamentos valendo-se de uma série de orações, iniciadas pela conjunção *SE*, indicativa de

- (A) alternância.
- (B) causa.
- (C) explicação.
- (D) concessão.
- (E) condição.

41. Observando-se o *quadrado mágico*, no qual o resultado da soma dos números de cada linha, coluna ou diagonal é sempre o mesmo, e considerando-se que alguns desses números estão representados pelas letras a, b, x e y, pode-se afirmar

que o valor numérico da expressão  $\frac{b^2 + \sqrt{a+b}}{x-y}$  é igual a

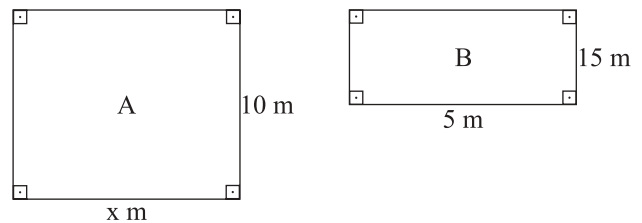
8	13	12
a	11	y
b	9	x

- (A) 4.  
 (B) 9.  
 (C) 10.  
 (D) 15.  
 (E) 16.
42. João destinava  $\frac{1}{5}$  do seu salário para pagamento do aluguel. Neste mês, porém, o valor do aluguel teve um aumento e passou a representar  $\frac{1}{4}$  do seu salário, que não teve nenhuma alteração. Portanto, pode-se concluir que o aluguel de João teve um aumento de
- (A) 5%.  
 (B) 8%.  
 (C) 15%.  
 (D) 20%.  
 (E) 25%.
43. O piso de uma cozinha quadrada, cuja medida do lado é igual a 3,6 m, será revestido com lajotas quadradas, com 40 cm de lado, que são vendidas somente em caixas fechadas contendo um total de 0,96 m<sup>2</sup> de lajotas em cada uma. Dessa maneira, para executar totalmente o serviço, o responsável terá de comprar, no mínimo,
- (A) 82 lajotas.  
 (B) 84 lajotas.  
 (C) 86 lajotas.  
 (D) 92 lajotas.  
 (E) 94 lajotas.

44. A mãe de Lígia e Flávia deu a cada uma quantias iguais para que elas comprassem presentes para o Dia dos Pais. Das quantias recebidas, Lígia gastou  $\frac{3}{4}$  na compra do seu presente, e Flávia gastou  $\frac{3}{5}$  na compra do seu, sendo que restou para uma delas R\$ 27,00 a mais do que para a outra. O presente que Lígia comprou para seu pai custou

- (A) R\$ 108,00.  
 (B) R\$ 120,00.  
 (C) R\$ 135,00.  
 (D) R\$ 150,00.  
 (E) R\$ 162,00.

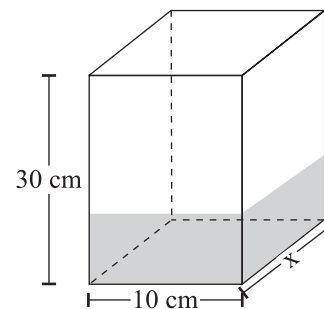
45. Considere dois terrenos retangulares, A e B, mostrados na figura.



Sabendo-se que na divisão da área do terreno A pela área do terreno B, o quociente é igual a 1,6 e o resto é zero, pode-se afirmar que a soma dos perímetros dos dois terrenos é igual a

- (A) 84 m.  
 (B) 90 m.  
 (C) 155 m.  
 (D) 160 m.  
 (E) 195 m.
46. No café, Pedro e Fernando conversavam sobre o aumento salarial de 20% que cada um havia recebido, sendo que o novo salário de Pedro passou a ser igual a 85% do novo salário de Fernando. Se a soma dos salários dos dois, após o aumento, é igual a R\$ 6.660,00, então antes do aumento o salário de Pedro era de
- (A) R\$ 3.600,00.  
 (B) R\$ 3.060,00.  
 (C) R\$ 3.000,00.  
 (D) R\$ 2.550,00.  
 (E) R\$ 2.450,00.

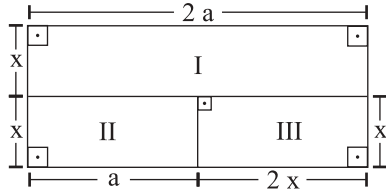
47. Se toda a produção de um lote específico de um determinado perfume fosse acondicionada em frascos de 50 mL, o número de frascos necessários superaria em 500 unidades o número de frascos que seriam necessários se toda a produção fosse acondicionada em frascos de 75 mL. Assim, pode-se concluir que a produção total desse lote de perfume foi igual a
- (A) 20 litros.  
 (B) 25 litros.  
 (C) 35 litros.  
 (D) 50 litros.  
 (E) 75 litros.
48. Uma pequena empresa produz 200 bolas a cada três dias, trabalhando com uma equipe de 6 funcionários. Para ampliar a produção para 600 bolas a cada 2 dias, mantendo-se, por funcionário e para todos eles, as mesmas produtividade, condições de trabalho e carga horária, ela precisará contratar mais
- (A) 23 funcionários.  
 (B) 21 funcionários.  
 (C) 18 funcionários.  
 (D) 15 funcionários.  
 (E) 12 funcionários.
49. A capacidade total de um reservatório é de 3 000 litros, sendo que ele possui duas válvulas de entrada de água, A e B. Estando o reservatório completamente vazio, abriu-se a válvula A, com uma vazão constante de 15 litros de água por minuto. Quando a água despejada atingiu  $\frac{2}{5}$  da capacidade total do reservatório, imediatamente abriu-se também a válvula B, com uma vazão constante de 25 litros de água por minuto, sendo que as duas válvulas permaneceram abertas até que o reservatório estivesse totalmente cheio. Como não houve nenhuma saída de água durante o processo, o tempo gasto para encher totalmente o reservatório foi de
- (A) 80 min.  
 (B) 115 min.  
 (C) 125 min.  
 (D) 140 min.  
 (E) 155 min.
50. Um concurso foi desenvolvido em três etapas sucessivas e eliminatórias. Do total de candidatos que participaram da 1.<sup>a</sup> etapa,  $\frac{3}{4}$  foram eliminados. Dos candidatos que participaram da 2.<sup>a</sup> etapa,  $\frac{2}{5}$  foram eliminados. Dos candidatos que foram para a 3.<sup>a</sup> etapa,  $\frac{2}{3}$  foram eliminados, e os 30 candidatos restantes foram aprovados. Sabendo-se que todos os candidatos aprovados em uma etapa participaram da etapa seguinte, pode-se afirmar que o número total de candidatos que participaram da 1.<sup>a</sup> etapa foi
- (A) 600.  
 (B) 550.  
 (C) 450.  
 (D) 400.  
 (E) 300.
51. No domingo, Mariana alugou dois filmes em DVD. Os dois filmes, juntos, tinham uma duração total de 3,4 horas, sendo que um deles era 20 minutos mais longo que o outro. Se ela começou a ver o filme mais longo às 17 h 35 min, e não fez nenhuma pausa durante o seu transcorrer, então ela terminou de ver esse filme às
- (A) 18 h 57 min.  
 (B) 19 h 27 min.  
 (C) 19 h 45 min.  
 (D) 19 h 55 min.  
 (E) 19 h 59 min.
52. O recipiente, na forma de um paralelepípedo reto retângulo, com as dimensões internas mostradas na figura, contém 900 mL de água, sendo que o nível da água nele contida atinge  $\frac{1}{5}$  da sua altura total.



Para que o nível da água atinja exatamente a metade da altura do recipiente, será necessário colocar nele mais uma quantidade de água igual a

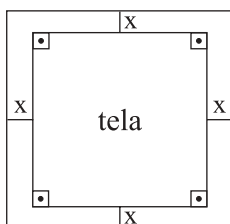
- (A) 2,25 litros.  
 (B) 2,00 litros.  
 (C) 1,35 litro.  
 (D) 1,30 litro.  
 (E) 1,25 litro.

53. Na figura, a composição dos retângulos, com medidas em metros, mostra a divisão que Cecília planejou para o terreno que possui. A casa deverá ser construída nas áreas I e III, sendo a área II reservada para jardim e lazer.



Sabendo-se que a medida  $a$  é igual ao dobro da medida  $x$ , e que a área total do terreno é  $512 \text{ m}^2$ , pode-se afirmar que as áreas I e III possuem, juntas,

- (A)  $192 \text{ m}^2$ .  
 (B)  $256 \text{ m}^2$ .  
 (C)  $294 \text{ m}^2$ .  
 (D)  $384 \text{ m}^2$ .  
 (E)  $390 \text{ m}^2$ .
54. Um certo capital foi aplicado a juro simples durante 8 meses, gerando um montante de R\$ 9.600,00. Esse montante foi novamente aplicado por mais 4 meses, à mesma taxa de juro da aplicação anterior, e gerou R\$ 960,00 de juros. O capital inicialmente aplicado foi
- (A) R\$ 7.000,00.  
 (B) R\$ 7.500,00.  
 (C) R\$ 7.800,00.  
 (D) R\$ 7.900,00.  
 (E) R\$ 8.000,00.
55. Num quadro, a tela é quadrada, com 200 cm de perímetro, e a moldura tem  $x$  cm de largura, como mostra a figura.



Se o quadro tem uma área total de  $4900 \text{ cm}^2$ , então a medida  $x$  da moldura é igual a

- (A) 12 cm.  
 (B) 10 cm.  
 (C) 9 cm.  
 (D) 8 cm.  
 (E) 6 cm.

56. X, funcionário da prefeitura de São Paulo, recebeu por engano, de Z, munícipe, determinada quantia em dinheiro para pagamento de uma multa administrativa. Ocorre que X aposou-se do dinheiro, não efetuando o pagamento da multa. A referida conduta configura o crime de

- (A) peculato culposo.  
 (B) peculato mediante erro de outrem.  
 (C) emprego irregular de verbas ou rendas públicas.  
 (D) prevaricação.  
 (E) exercício funcional ilegalmente prolongado.

57. O crime de fraude processual consiste em

- I. inovar artificiosamente, na pendência de processo administrativo, o estado de lugar, de coisa ou de pessoa com o fim de induzir a erro o juiz ou o perito.  
 II. inovar artificiosamente, na pendência de processo civil, o estado de lugar, de coisa ou de pessoa com o fim de induzir a erro o juiz ou o perito.  
 III. inovar artificiosamente, na pendência de processo civil ou administrativo, o estado de lugar, de coisa ou de pessoa com o fim de induzir a erro o Ministério Público.

Está correto o contido em

- (A) I, apenas.  
 (B) I e II, apenas.  
 (C) II e III, apenas.  
 (D) III, apenas.  
 (E) I, II e III.

58. X deseja participar de um torneio de tênis na categoria sênior. Para tanto, ele próprio altera sua carteira de identidade, modificando a data do seu nascimento. A conduta praticada por X

- (A) não pode ser considerada como criminosa, pois X não agiu com a finalidade de prejudicar direito, criar obrigação ou alterar a verdade sobre fato juridicamente relevante.  
 (B) não pode ser punida, pois ao falsificar o documento, X não agiu com a finalidade de obter vantagem econômica.  
 (C) tipifica o crime de supressão de documento.  
 (D) tipifica o crime de falsificação de documento público.  
 (E) tipifica o crime de falsidade ideológica.

## DIREITO PROCESSUAL PENAL

59. Durante a instrução criminal, no procedimento comum, as testemunhas deverão ser ouvidas da seguinte forma:
- (A) as testemunhas de defesa serão ouvidas em primeiro lugar, e, somente após, serão ouvidas as testemunhas de acusação.
  - (B) as testemunhas de acusação serão ouvidas em primeiro lugar, e, somente após, serão ouvidas as testemunhas de defesa.
  - (C) serão ouvidas conjuntamente, na mesma audiência, as testemunhas de acusação e de defesa, não importando a ordem.
  - (D) serão ouvidas conjuntamente, na mesma audiência, as testemunhas de acusação e de defesa, respeitando-se a ordem de comparecimento ao Fórum.
  - (E) as testemunhas de defesa serão ouvidas em primeiro lugar, uma vez que ao réu deve ser dada amplitude de defesa.
60. A denúncia ou queixa conterá necessariamente:
- I. a exposição do fato criminoso, com todas as suas circunstâncias;
  - II. a qualificação do acusado ou esclarecimentos pelos quais se possa identificá-lo;
  - III. a classificação do crime.
- Está correto o contido em
- (A) I, apenas.
  - (B) I e II, apenas.
  - (C) II e III, apenas.
  - (D) III, apenas.
  - (E) I, II e III.
61. Na hipótese de ocorrer crime que deixe vestígios em uma localidade do interior do Estado de São Paulo, onde não há peritos oficiais para a realização do exame de corpo de delito, ele
- (A) será realizado exclusivamente por dois peritos oficiais da capital do Estado, ou da localidade mais próxima.
  - (B) será realizado exclusivamente por dois peritos oficiais do Instituto Médico Legal (IML) do Estado de São Paulo.
  - (C) será realizado por duas pessoas idôneas portadoras de diploma de curso superior, escolhidas, de preferência, entre as que tiverem habilitação técnica relacionada à natureza do exame.
  - (D) não será realizado até que o magistrado nomeie pessoa de sua confiança para a realização da perícia.
  - (E) não será realizado, devendo o magistrado sentenciar com base nas demais provas do processo.

## DIREITO PROCESSUAL CIVIL

62. Quando o Ministério Público intervier no processo como fiscal da lei, terá vista dos autos
- (A) depois das partes, e poderá juntar documentos que entender necessários ao descobrimento da verdade.
  - (B) não antes de julgado o processo, podendo interpor recurso se observar nulidade no processamento.
  - (C) antes das partes, e poderá requerer diligências necessárias ao descobrimento da verdade.
  - (D) depois das partes, mas não será intimado de todos os atos do processo, devendo comparecer ao cartório para acompanhá-lo.
  - (E) antes mesmo das partes, para apontar ou sanar qualquer falha que possa impedir o regular trâmite processual.
63. Se determinado prazo judicial terminar no dia em que o expediente forense for iniciado depois da hora normal,
- (A) será prorrogado por igual período, iniciando-se no primeiro dia útil subsequente.
  - (B) considera-se prorrogado, automaticamente, por três dias úteis.
  - (C) considera-se prorrogado para o primeiro dia útil.
  - (D) não se prorrogará, exceto se o expediente encerrar-se antes da hora normal.
  - (E) será novamente publicado, reiniciando-se sua contagem.
64. Quanto às intimações e citações, marque a assertiva correta.
- (A) Nas capitais dos Estados, devido ao grande movimento forense, a intimação do Ministério Público poderá ser feita pela simples publicação no órgão oficial.
  - (B) Nas comarcas sem órgão de publicação dos atos oficiais, compete ao escrivão intimar os advogados das partes, pessoalmente, tendo domicílio na sede do juízo.
  - (C) Começa a correr o prazo, a partir da data da assinatura do aviso de recebimento pelo citando, quando a citação for pelo correio.
  - (D) O prazo da intimação feita pelo Oficial de Justiça tem início na data em que ele lavra a respectiva certidão de cumprimento do mandado.
  - (E) Havendo vários réus citados pelo correio, o prazo inicia-se da juntada aos autos do primeiro aviso de recebimento, devidamente assinado por um deles.

## DIREITO CONSTITUCIONAL E MINISTÉRIO PÚBLICO

65. Para assegurar o conhecimento de informações relativas à pessoa do impetrante, constantes de registros ou bancos de dados de entidades governamentais ou de caráter público, conceder-se-á
- (A) mandado de segurança.
  - (B) *habeas corpus*.
  - (C) *habeas data*.
  - (D) mandado de injunção.
  - (E) ação popular.
66. É correto afirmar que
- (A) a chefia do Ministério Público cabe ao Governador do Estado.
  - (B) as Promotorias de Justiça são órgãos de execução do Ministério Público.
  - (C) o Conselho Superior do Ministério Público é órgão de Execução.
  - (D) os Centros de Apoio Operacional são órgãos da Administração Superior do Ministério Público.
  - (E) as Procuradorias de Justiça são órgãos de Administração do Ministério Público.
67. A Sub-Área que tem, dentre outras, a atribuição de receber, registrar, distribuir e expedir processos, correspondências e papéis, manter arquivo de correspondência expedida e das cópias dos documentos preparados, executar serviços de dactilografia e providenciar cópias de textos para a Diretoria Geral é a de apoio
- (A) técnico.
  - (B) administrativo.
  - (C) de planejamento setorial.
  - (D) de gestão.
  - (E) operacional.

## DIREITO ADMINISTRATIVO

68. Considerar-se-á abandono de cargo o não-comparecimento consecutivo do funcionário por mais de
- (A) 10 dias.
  - (B) 15 dias.
  - (C) 30 dias.
  - (D) 45 dias.
  - (E) 60 dias.

## 69. O oficial de promotoria

- (A) deverá providenciar a extração de cópia da inicial da ação civil pública, bem como, de acordo com o seu critério, de cópia dos autos do inquérito civil, das peças de informação ou de suas principais peças.
- (B) zelar pela manutenção dos autos na promotoria de justiça, determinando as condições para exame e retirada dos autos por terceiros interessados.
- (C) deverá usar o espaço número dois nos atos datilografados ou digitados.
- (D) criará modelo próprio de ofícios, requisições e notificações.
- (E) autenticará com a sua assinatura as anotações que por acaso realizar de “sem efeito”.

## 70. Todos os documentos encaminhados ao Ministério Público, noticiando lesão ou ameaça de lesão a interesses difusos e coletivos, independentemente de despacho, serão imediatamente protocolados e registrados em livro próprio, sendo que

- (A) o registro obedecerá à ordem cronológica de chegada e será autuado, no prazo de 72 horas.
- (B) segundo solicitação do promotor de justiça, o oficial de promotoria realizará a conclusão dos autos ao promotor de justiça com atribuição para a análise do caso.
- (C) o oficial de promotoria deverá elaborar parecer prévio antes de enviar os autos ao promotor de justiça.
- (D) o oficial de promotoria deverá cumprir o despacho do promotor, no prazo de 5 dias.
- (E) é função do oficial de promotoria dar publicidade ao documentado, para que possíveis interessados possam contribuir com medidas judiciais necessárias.

## ATUALIDADES

## 71. O Hisbollah ( ou Hesbollah) foi fundado em 1982. O nome desse grupo religioso vem da associação das palavras “Hisbu” (partido) e “Allah” (Deus) e tem um braço político e outro armado. Ele está presente em todas as matérias jornalísticas que tratam do ataque armado de Israel ao Líbano. É correto afirmar que a ação armada de Israel no sul do Líbano teve início porque

- (A) o presidente do Líbano, Emile Lahoud, apoiado pelo Hisbollah, posicionou tropas na região de fronteira com o norte de Israel.
- (B) os terroristas palestinos da faixa de Gaza fugiram para as fazendas de Chebaa, que fazem fronteira com o Líbano, a Síria e Israel.
- (C) o grupo extremista seqüestrou dois soldados israelenses que estavam servindo na região fronteira entre os dois países.
- (D) apesar de reconhecer o estado de Israel, o Hisbollah considera o vale de Chebaa como território palestino.
- (E) Israel pretende compensar a área cedida aos palestinos na Cisjordânia, por imposição da ONU.

72. A Agência Estado informou que “se depender do ministro da Fazenda, Guido Mantega, a Rodada Doha ainda não chegou ao seu estado terminal”. O ministro confirmava a esperança e a declaração de seu antecessor, Antônio Palocci, feita à *Folha de S.Paulo*, no dia 03.12.2005. Eles referiam-se ao possível fracasso das negociações dentro da Organização Mundial do Comércio (OMC), realizadas em Doha, capital
- (A) do Reino do Qatar.  
 (B) dos Emirados Árabes.  
 (C) do Iêmen.  
 (D) da Síria.  
 (E) da Jordânia.
73. Em julho do ano corrente, os jornais noticiavam que a Associação Nacional de Apoio à Reforma Agrária (Anara), entidade que mantinha o MLST (Movimento de Libertação dos Sem-Terra), estava impedida de receber verbas federais porque não tinha prestado contas de R\$ 2,24 milhões, referentes a um convênio com o governo federal. O MLST ficou conhecido
- (A) porque invadiu e depredou instalações do Senado Federal, em maio deste ano.  
 (B) por ter invadido uma prisão federal e libertado um líder dos trabalhadores rurais.  
 (C) porque os seus militantes atacaram câmaras municipais com coquetéis molotov.  
 (D) pela invasão e depredação das instalações da Câmara Federal, em junho deste ano.  
 (E) porque atacou uma comitiva presidencial que visitava um assentamento no Acre.
74. Quando o Brasil negociava o preço do gás com a Bolívia, em junho deste ano, o presidente boliviano, além de acusar a Petrobrás de manter atividades ilegais, lamentou que uma grande área do território do seu país tenha sido comprada pelo Brasil em troca de um cavalo. Ele referiu-se ao Estado
- (A) de Roraima.  
 (B) do Amapá.  
 (C) de Rondônia.  
 (D) de Mato Grosso.  
 (E) do Acre.
75. Segundo matéria da agência Estado, “a agência russa de inspeção de alimentos Rosselkhozadzor informou que suspendeu temporariamente todas as importações de frango do Rio Grande do Sul”, confirmando negociações divulgadas pela imprensa em 11.07.2006. A agência russa reclamava que o frango gaúcho não foi termicamente tratado, apesar de, no estado, haver indícios da
- (A) gripe aviária.  
 (B) doença de Newcastle.  
 (C) febre aftosa.  
 (D) varíola aviária.  
 (E) doença de Marek.
76. A Associação Brasileira das Indústrias de Óleos Vegetais (Abiove) e a Associação Nacional dos Exportadores de Cereais (Anec) anunciaram que as empresas a elas associadas não mais comprarão soja proveniente de novas áreas desflorestadas. O anúncio demonstra influência do Greenpeace que, em 29 de abril deste ano, havia impedido o descarregamento de soja em um porto holandês. A decisão tem por objetivo atender às novas exigências do mercado internacional, que
- (A) ameaça um boicote à soja amazônica.  
 (B) condena a mão-de-obra escrava usada em derrubadas da Mata Atlântica.  
 (C) constatou ser transgênica a soja brasileira das novas áreas desflorestadas.  
 (D) condena o uso de queimadas para o replantio de soja, em Mato Grosso do Sul.  
 (E) não aceita a silagem ao ar livre praticada nessas áreas, pelos produtores.
77. O presidente americano, George W. Bush, vetou um polêmico projeto de lei que permitia o uso de verbas federais para a pesquisa científica, usando células-tronco. Foi a primeira vez, em seis anos de governo, que o presidente usou do poder de veto. O Parlamento Europeu, ao contrário, aprovou, em 15 de junho deste ano, o financiamento desse tipo de pesquisa. A iniciativa do presidente americano foi criticada pelo autor de “Uma Breve História do Tempo” e “Uma Nova História do Tempo”, um físico inglês que convive com uma grave doença degenerativa. O nome do cientista inglês que contesta o presidente americano é
- (A) Murray Gell-Mann.  
 (B) Robert Hooke.  
 (C) Georg Simon Ohm.  
 (D) Christian Huygens.  
 (E) Stephen Hawking.
78. Segundo a Agência Estado, “o Brasil cresceu no último ano apenas 2,35%. Se comparada ao crescimento dos outros países emergentes, a taxa brasileira representa apenas 35% do crescimento desses países. Na América Latina, foi o mais baixo.” Para fazer essa afirmativa, o jornal comparou o produto interno bruto (PIB) dos países emergentes. PIB representa
- (A) a diferença entre recursos enviados ao exterior e os recursos recebidos do exterior a partir de fatores de produção.  
 (B) a soma de todas as riquezas finais produzidas em uma determinada região ou parcela da sociedade, durante um período determinado.  
 (C) o índice que mede o desempenho de uma carteira teórica, composta por ações de empresas comprometidas com programas de governança corporativa.  
 (D) a somatória das taxas de inflação ao consumidor computadas em períodos de trinta dias.  
 (E) um indicador para balizar as correções de alguns títulos emitidos pelo Tesouro Nacional e Depósitos Bancários com renda pós fixada acima de um ano.

79. Segundo a agência BBC-Brasil, em matéria de 16.06.2006, “a investigação sobre a atuação da polícia no episódio que levou à morte do brasileiro Jean Charles de Menezes, em Londres, em julho do ano passado, não deve ser concluída antes de agosto”. O brasileiro foi morto a tiros na estação de metrô de Stockwell. Os policiais da Scotland Yard afirmaram que ele foi confundido com um

- (A) assaltante de bancos.
- (B) alto dirigente do IRA.
- (C) fugitivo da prisão de Manchester.
- (D) terrorista.
- (E) estuprador.

80. Em julho deste ano, cerca de 200 índios de 9 etnias, incluindo caiapós, apiacás, panarás, terenas e caiabis interditaram a BR 163, entre os municípios de Santa Helena e Itaúba. Os terenas, em ação isolada, já haviam interrompido o tráfego da estrada por cinco vezes, nos últimos dois anos. Os índios protestam contra a construção da rodovia que poderá prejudicar 11 aldeias. O bloqueio impediu o transporte entre os Estados

- (A) de Mato Grosso e de Mato Grosso do Sul.
- (B) do Pará e de Tocantins.
- (C) de Mato Grosso e do Pará.
- (D) do Pará e do Amazonas.
- (E) de Mato Grosso e de Goiás.

